



Сурагчийн нэр:

Эхэлсэн: он сар өдөр

- 1 зуу
 - 1 арав
 - 1 нэгж

Зуут (з)	Аравт (а)	Нэгж (н)
1	3	5

10 а = 1 з = 100
 3 а = 30
 5 н
 1 з 3 а 5 н = 135

1 Шоог ажиглан тоог бичээрэй.

а.

Зуут (з)	Аравт (а)	Нэгж (н)
....

б.

Зуут (з)	Аравт (а)	Нэгж (н)
....

2 Хэдэн төгрөг байгааг тоолж, бичээрэй.

- 100 төгрөг - 10 төгрөг - 1 төгрөг

а.

....

б.

....

3 Дараах тоонуудыг орон ангийн хүснэгтэд бичээрэй.

а.

	Зуут (з)	Аравт (а)	Нэгж (н)
а.	2	6	4
б.	4	8	1
в.	7	2	5

а. 2 з 6 а 4 н = _____

б. 4 з 8 а 1 н = _____

в. 7 з 2 а 5 н = _____

б.

	Зуут (з)	Аравт (а)	Нэгж (н)
а.			
б.			
в.			

а. 685 = ___ з ___ а ___ н

б. 593 = ___ з ___ а ___ н

в. 827 = ___ з ___ а ___ н

Дууссан:сарөдөр



Даалгавар	1	2	3
Өөрийн үнэлгээ			



Сурагчийн нэр:

Эхэлсэн: он сар өдөр

156 – Нэг зуун тавин зургаа
784 – Долоон зуун наян дөрөв

Гурван зуун далан тав - 375
Есөн зуун хорь - 920

10 аравт = 100 нэгж
37 аравт = 370 нэгж

2 зуут = 200 нэгж
8 зуут = 800 нэгж

1 Тодруулсан цифр ямар орны утгыг илэрхийлж байгааг холбоорой.

аравтын орон
•

нэгжийн орон
•

зуутын орон
•

• • • • • • • • •
746 972 185 922 528 839 138 829 473

2 Дараах тоонууд хэдэн нэгж болох вэ? Бичээрэй.

65 аравт = _____ 76 аравт = _____
 7 зуут = _____ 95 аравт = _____
 34 аравт = _____ 10 зуут = _____

3 Тоог уншаад, цифрээр болон үгээр бичээрэй.

Гурван зуун хорин зургаа _____, 867 _____
 Есөн зуун арван долоо _____, 734 _____
 Таван зуун ерин нэг _____, 923 _____

Орны нэмэгдэхүүний нийлбэрт задлах

654 = 6 з 5 а 4 н = 600 + 50 + 4 578 = 5 з + 7 а + 8 н

4 Тоонуудыг орны нэмэгдэхүүний нийлбэрээр задалж бичээрэй.

538 = _____ 867 = ____ + 6 а ____
 396 = _____ 935 = 9 з + _____
 826 = _____ 254 = _____
 630 = _____ 345 = _____

5 536, 645, 761, 213 үүсгэх тоонуудыг будаарай.

100	200	300	400	500	600	700
10	20	30	40	50	60	70
1	2	3	4	5	6	7

Дууссан:сарөдөр

Даалгавар	1	2	3	4	5
Өөрийн үнэлгээ					



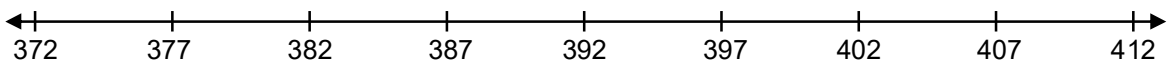
Сурагчийн нэр:

Эхэлсэн: он сар өдөр

215 ба 225 - ын аль нь их тоо вэ?

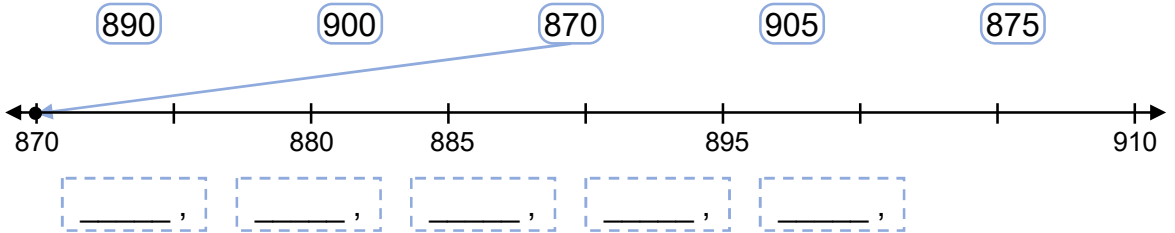
$215 \dots 225$ $2 \text{ з} = 2 \text{ з}$ $1 \text{ а} < 2 \text{ а}$ $215 < 225$	$225 \dots 230$ $2 \text{ з} = 2 \text{ з}$ $2 \text{ а} < 3 \text{ а}$ $225 < 230$
--	--

1) Өгсөн тоог тоон шулуун дээр цэгээр тэмдэглээд, жишээрэй.

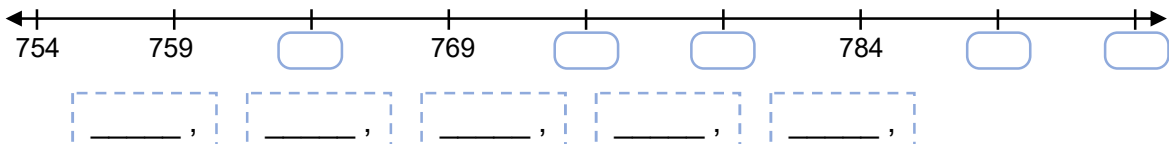


377 382 407 377 392 397 412 402

2) Тоонуудыг тоон шулуун дээр цэгээр тэмдэглэн, өсөх эрэмбээр бичээрэй.



3) Орхисон тоог нөхөж бичээд, буурах эрэмбээр бичээрэй.



4) Тоон шулуун зурж 350, 365 тоонуудыг тэмдэглэн, жишээрэй.



350 365

5) Тоон шулуун зурж 470, 465, 475 тоонуудыг тэмдэглэн, жишээрэй.



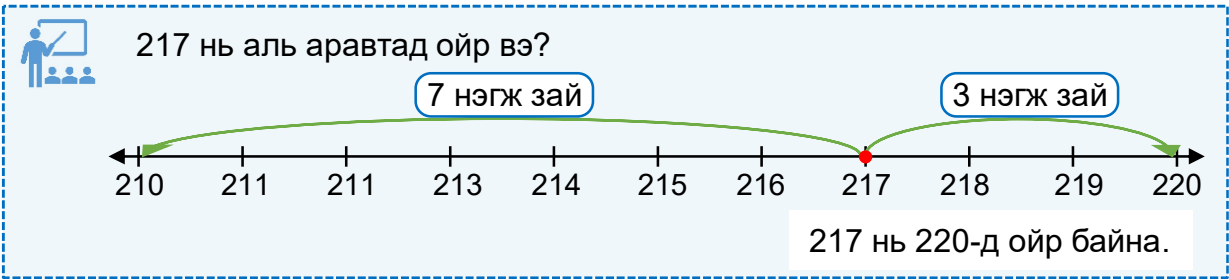
465 475 485

Дууссан:сарөдөр

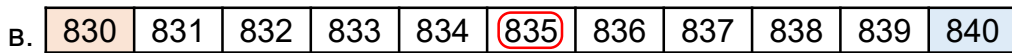
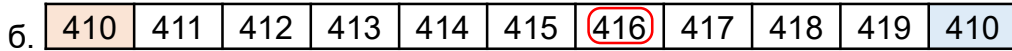
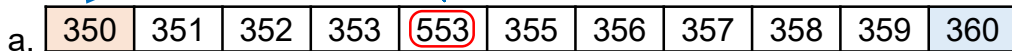
		Даалгавар	1	2	3	4	5
		Өөрийн үнэлгээ					

Сурагчийн нэр:


Эхэлсэн: он сар өдөр



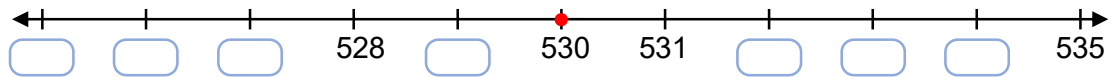
1 Дугуйлсан тоо аль аравтад ойр байгааг тэмдэглээрэй.



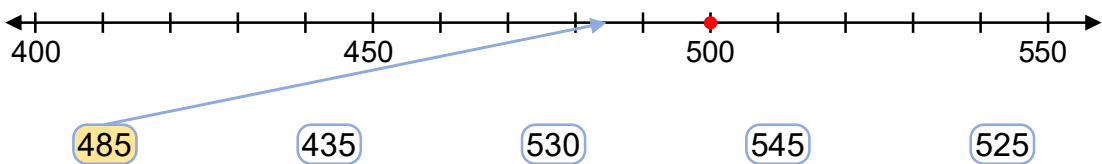
2 Тоон шулуун дээр тоог зуутаар тоймлоорой.



3 Хуваарийг нөхөж бичээд, аравтаар тоймлоход 530 гарах тоонуудыг тоон шулуун дээр тэмдэглээрэй.



4 Зуутаар тоймлоход 500 гарах тоонуудыг тоон шулуун дээр тэмдэглээд, будаарай.



5 Тоймлоорой.

Аравтаар тоймлоорой. $258 \approx \underline{\quad}$, $443 \approx \underline{\quad}$, $821 \approx \underline{\quad}$, $635 \approx \underline{\quad}$

Зуутаар тоймлоорой. $258 \approx \underline{\quad}$, $443 \approx \underline{\quad}$, $821 \approx \underline{\quad}$, $635 \approx \underline{\quad}$

Дууссан:сарөдөр

		Даалгавар	1	2	3	4	5
		Өөрийн үнэлгээ					